

極・極線と調和点列

かわい しんすけ
河合 進輔

§0. はじめに

極・極線と調和点列は、大学の入試問題の題材にされることが多い。これらのことをまとめてみたいと思っていたところ、丁度、2006年度の神戸大学の入試に出題されたので、生徒向けに解説した。以下は、それを少し一般化し整理したものである。

§1. 極・極線とは

2次曲線Cの接点 $P(x_1, y_1)$ における接線の公式は、点Pがその2次曲線上にない場合でも形式的に x_1, y_1 の値を代入することによって、1つの直線を表す。その直線を点Pの極線といい、Pを極という。また、点Pから2次曲線Cに2本の接線が引かれるとき、点Pの極線は2つ接線の接点を通る。

一般に、2次曲線

$$ax^2 + 2hxy + by^2 + 2px + 2qy + c = 0$$

について、極 $P(x_1, y_1)$ の極線は

$$ax_1x + h(x_1y + y_1x) + by_1y + p(x + x_1) + q(y + y_1) + c = 0$$

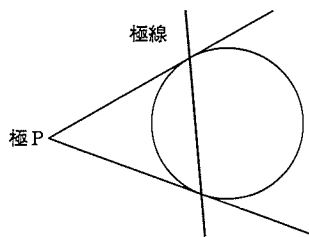
である。特に高校でよく扱われるのは、

$$\text{円 } x^2 + y^2 = r^2$$

について、

$$x_1x + y_1y = r^2$$

である。



§2. 調和点列とは

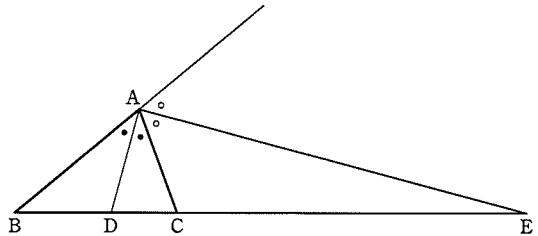
線分PQを $m:n$ ($m < n$)に内分する点をR、外分する点をSとすると、4点P, Q, R, Sを調和点列といい、

$$\frac{1}{PR} + \frac{1}{PS} = \frac{2}{PQ}$$

が成り立つ。この式は、PQがPRとPSの調和平均であることを示している。

例えば、下図 $\triangle ABC$ において、頂点Aでの内角お

よび外角の二等分線と直線BCとの交点をそれぞれD, Eとすると、4点B, D, C, Eは調和点列をなす。



§3. 具体的な問題例

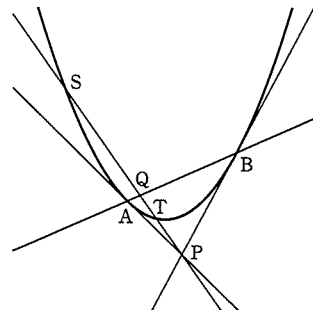
次の2006年度神戸大学前期の問題は、放物線における極・極線と調和点列を題材にした問題である。

xy 平面において、放物線 $C: y = x^2$ とその下側にある点 $P(p, q)$ ($q < p^2$)を考える。Pを通るようなCの2つの接線を考え、その接点をそれぞれA, Bとする。また、Pを通る傾き m の直線がCと相異なる2点S, Tで交わるとする。

点A, Bの x 座標をそれぞれ a, b とし、点S, Tの x 座標をそれぞれ s, t とする。次の問いに答えよ。

- (1) $a + b, ab$ を p, q で表せ。
- (2) $s + t, st$ を p, q, m で表せ。
- (3) 直線ABと直線STの交点をQとし、Qの x 座標を u とする。図のように $s < u < t < p$ となる場合について、等式 $\frac{1}{PS} + \frac{1}{PT} = \frac{2}{PQ}$ が

成立することを示せ。



この問題は、放物線における本稿の内容そのものになっている。極線の式を使ってこの問題を解くと次のようになる。

(1) 直線 AB は、放物線 $x^2 - y = 0$ に関する極 P の極線であるから、その方程式は

$$px - \frac{1}{2}(y+q) = 0$$

この式と $x^2 - y = 0$ より

$$x^2 - 2px + q = 0$$

この 2 次方程式の解が a, b であるから、解と係数の関係より

$$a+b=2p, ab=q \quad \cdots \cdots \text{答}$$

(2) 直線 PQ の方程式は $y = m(x-p) + q$

この式と $y = x^2$ より

$$x^2 - mx + mp - q = 0$$

この 2 次方程式の解が s, t であるから、解と係数の関係より

$$s+t=m, st=mp-q \quad \cdots \cdots \text{答}$$

(3) P, Q, S, T から、 x 軸に下ろした垂線の足をそれぞれ P', Q', S', T' とすると

$\frac{1}{P'S'} + \frac{1}{P'T'} = \frac{2}{P'Q'}$ が成立することを示せばよい。

$$\begin{aligned} \frac{1}{P'S'} + \frac{1}{P'T'} &= \frac{1}{p-s} + \frac{1}{p-t} \\ &= \frac{2p-(s+t)}{(p-s)(p-t)} \\ &= \frac{2p-m}{p^2-q} \end{aligned}$$

(注参照)

$$\begin{cases} y = m(x-p) + q \\ y = 2px - q \end{cases} \text{ から } u = \frac{mp-2q}{m-2p}$$

$$\begin{aligned} \frac{2}{P'Q'} &= \frac{2}{p-u} = \frac{2}{p - \frac{mp-2q}{m-2p}} \\ &= \frac{2(m-2p)}{-2p^2+2q} = \frac{2p-m}{p^2-q} \end{aligned}$$

よって $\frac{1}{P'S'} + \frac{1}{P'T'} = \frac{2}{P'Q'}$ (証明終)

(注) 分母は(2)より

$$x^2 - mx + mp - q = (x-s)(x-t)$$

この式で $x=p$ とすると簡単。

§ 4. より具体的な例

生徒に示したプリントでは、次のような具体例を挙げた。

【例 1】 円 $x^2 + y^2 = 25$ について、
極 P(-1, 7) の極線は $-x + 7y = 25$

P を通る直線 $7x + y = 0$ と円との交点を S, T とし、極線との交点を Q とする。また、4 点 P, S, Q, T から、 x 軸に下ろした垂線の足をそれぞれ P', S', Q', T' とする。

ただし、(S の x 座標) < (T の x 座標) とする。

$$\begin{cases} 7x + y = 0 \\ -x + 7y = 25 \end{cases} \text{ から } x = -\frac{1}{2}$$

$$\begin{cases} 7x + y = 0 \\ x^2 + y^2 = 25 \end{cases} \text{ から } x = \pm \frac{1}{\sqrt{2}}$$

よって、 P', S', Q', T' の x 座標は順に

$$-1, -\frac{1}{\sqrt{2}}, -\frac{1}{2}, \frac{1}{\sqrt{2}} \text{ であり、}$$

$\frac{1}{P'S'} + \frac{1}{P'T'} = \frac{2}{P'Q'}$ の両辺の値は 4 となり一致するので、4 点 P, S, Q, T は調和点列である。

【例 2】 放物線 $y = x^2$ について、 (x_1, y_1) における接線の式は、 $y + y_1 = 2x_1x$ であるから

極 $P\left(\frac{1}{2}, -2\right)$ の極線は、 $y = x + 2$

P を通る直線 $y = 6x - 5$ と放物線との交点を S, T とし、極線との交点を Q とする。また、4 点 P, S, Q, T から、 x 軸に下ろした垂線の足をそれぞれ P', S', Q', T' とする。

ただし、(S の x 座標) < (T の x 座標) とする。

$$\begin{cases} y = 6x - 5 \\ y = x + 2 \end{cases} \text{ から } x = \frac{7}{5}$$

$$\begin{cases} y = 6x - 5 \\ y = x^2 \end{cases} \text{ から } x = 1, 5$$

P', S', Q', T' の x 座標は順に

$$\frac{1}{2}, 1, \frac{7}{5}, 5 \text{ であり、}$$

$\frac{1}{P'S'} + \frac{1}{P'T'} = \frac{2}{P'Q'}$ の両辺の値は $\frac{20}{9}$ となり一致するので、4 点 P, S, Q, T は調和点列である。ちなみに同じ神戸大学前期の問題に次のような問題がある。

平面上に、原点 O から出る相異なる 2 本の半直線 OX , OY をとり、 $\angle XOY < 180^\circ$ とする半直線 OX 上に O と異なる点 A を、半直線 OY 上に O と異なる点 B をとり、 $\vec{a} = \overrightarrow{OA}$, $\vec{b} = \overrightarrow{OB}$ とおく。次の問いに答えよ。

- (1) 点 C が $\angle XOY$ の二等分線上にあるとき、ベクトル $\vec{c} = \overrightarrow{OC}$ はある実数 t を用いて $\vec{c} = t \left(\frac{\vec{a}}{|\vec{a}|} + \frac{\vec{b}}{|\vec{b}|} \right)$ と表されることを示せ。
- (2) $\angle XOY$ の二等分線と $\angle XAB$ の二等分線の交点を P とおくと、 $\vec{p} = \overrightarrow{OP}$ を \vec{a} , \vec{b} および 3 辺の長さ $|\vec{a}|$, $|\vec{b}|$, $|\vec{b} - \vec{a}|$ を用いて表せ。

この問題は、 $\triangle OAB$ の $\angle O$ 内の傍心 I_0 を求める問題であるが、前頁の §2. の図で、点 C をそのまま C とし、点 B を O 、点 D を $\triangle OAB$ の内心 I 、点 E を I_0 として考えられるので、4 点 O, I, C, I_0 は、調和点列である。

§5. 最後に

以上のように、この問題は初等幾何から 2 次関数、2 次曲線にわたる内容を含んでいる。また、 a, b, c が調和数列ならば、 $\frac{1}{a} + \frac{1}{c} = \frac{2}{b}$ が成り立つので数列とも関連しているので、知識をつなげるのに良い題材である。 (兵庫県 須磨学園高等学校)