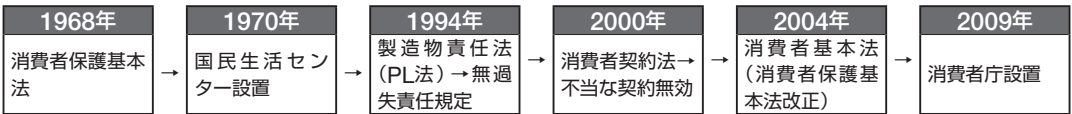


## 1 消費者問題と消費者保護

a. 消費者問題 欠陥商品, 悪質商法など。預金者保護法(2005)

契約の原則	一方的に解約できない。解除の例外: クーリング・オフ(特定商取引法, 2000)
消費者問題	消費者主権が企業主権に。原因: 情報の非対称性, 依存効果, デモンストレーション効果
今後の課題	環境への配慮→グリーン・コンシューマー。グリーン購入法(2001)

b. 消費者保護 消費者の権利を実現…日: 生活協同組合(生協)設立, 米: 消費者の四つの権利など



## 2 労使関係と労働市場

a. 労働問題と労働運動 形式的な契約の自由→弱い立場に立つ労働者に不利益→労働問題

欧米	英: 機械打ちこわし運動(ラッドライト運動), チャーチスト運動, 労働代表委員会。 米: アメリカ労働総同盟, ワグナー法, タフト・ハートレー法。国際機関: 国際労働機関(ILO)の設立(1919)
日本	戦前: 労働組合期成会, 友愛会, 日本労働総同盟。戦後: 総評・同盟→連合成立(1989)。春闘

b. 労働三権と労働三法 労働三権(団結権, 団体交渉権, 団体行動権(争議権))+ 勤労権 = 労働基本権

労働組合法(1945年)	労働関係調整法(1946年)	労働基準法(1947年)
免責(争議行為含む) 労働協約締結 労働委員会へ不当労働行為の申し立て	労働争議(斡旋・調停・仲裁)の公正な調整・予防・解決 緊急調整の決定 公務員の争議行為禁止→人事院勧告	労働条件の最低基準, 労使対等・男女同一賃金など。監督…労働基準局(厚生労働省)・労働局(都道府県)・労働基準監督署(市町村)

c. 日本の労使関係

企業別組合(欧米: 職業別組合, 産業別組合), 終身雇用制, 年功序列型賃金(一部成果主義(年俸制など)導入)
--

d. 日本の労働環境の変化と課題

①リストラクチャリング(リストラ)→非正規雇用労働者の増加 ②女性の進出。男女雇用機会均等法(1985)…女性の一般的な保護規定撤廃。育児休業法(1991), 育児・介護休業法(1995) ③長時間労働…過労死, サービス残業 ④単純な紛争解決→労働審判法(2004)制定 近年の動き…完全失業率減少, 有効求人倍率上昇。雇用環境の変化…情報通信技術(ICT)の向上や人工知能(AI)の導入
---

## 3 少子高齢社会と社会保障

a. 社会保障制度のあゆみ 起源…エリザベス救貧法(英, 1601), ビスマルクによる社会保険制度(独)

世界	社会保険法(米, 1935)。ベバリッジ報告(英, 1942)。フィラデルフィア宣言(ILO, 1944)
日本	恤救規則, 生活保護法(1946), 「国民皆保険・皆年金」(1961), 基礎年金制度(1985)

b. 日本の社会保障制度 社会保険・公的扶助・社会福祉・公衆衛生

社会保険	医療・年金・雇用・労働者災害補償・介護	公的扶助	生活・教育・住宅・医療・介護・出産・生業・葬祭
社会福祉	障がい者・児童・高齢者などの支援	公衆衛生	感染症対策など, 国民の健康を維持・促進

c. 社会保障制度の問題点・課題

問題点…高齢化, 少子化の進行(晩婚化などによる合計特殊出生率の低迷), 社会保険制度間格差, セーフティネット構築 年金制度改革…賦課方式→人口変動リスクが大きく, 年金財政問題を招来 施策…①高齢社会…介護保険法(1997), 高齢者介護サービス開始。②潜在的国民負担率(=国民負担率+財政赤字の対国民所得比率)…50%を上限に改革。③ノーマライゼーション(共生社会を模索), バリアフリー(障壁のない社会), ユニバーサルデザイン(誰もが使いやすい設備)。④障がい者の法定雇用率(障害者雇用促進法)の設定
---

**1 消費者問題と消費者保護**

- ① 双方に権利と義務を生じる法的行為を何というか。
- ② 一定期間内であれば、自由に契約を解除できる制度を何というか。
- ③ 市場の失敗の一つで、商品知識に関する情報に格差があることを何というか。
- ④ 周囲の消費水準や消費パターンに影響されることを何効果というか。
- ⑤ 欠陥商品に対して企業の無過失責任を規定した法律とは何か。
- ⑥ 不当な契約内容に対して無効を主張できる法律とは何か。
- ⑦ 消費者保護基本法を改正し、消費者を権利の主体と規定した法律とは何か。
- ⑧ 2009年、消費者行政を統一的に推進するために設置された官庁は何か。

**2 労使関係と労働市場**

- ① 19世紀初めにイギリスで発生した、機械打ちこわし運動とは何か。
- ② 1989年に結成された日本最大の労働組合の名称を答えよ。
- ③ 労働三権のうち、団結権・団体行動権(争議権)ともう一つは何か。
- ④ 労働三権と勤労権を加えた権利は何というか。
- ⑤ 使用者が黄犬契約を結んだりする行為を何というか。
- ⑥ 労働争議を解決する三つの手段を答えよ。
- ⑦ 公務員の争議権剥奪の代償として設置された行政委員会の名称を答えよ。
- ⑧ 労働基準法の遵守を目的に主な市町村に置かれている行政機関は何か。
- ⑨ 日本の労使関係の特色を三つ答えよ。
- ⑩ 契約社員、派遣社員、パートなど臨時的な雇用形態を何というか。
- ⑪ 増加傾向にある労働者個人と企業との単純な紛争解決のための法律とは何か。
- ⑫ 長時間労働の結果として突然死にいたることを何というか。
- ⑬ 景気が悪化したことを理由として生じる失業を何というか。

**3 少子高齢社会と社会保障**

- ① 17世紀初めにイギリスで制定された、社会保障の先駆けとなる法律は何か。
- ② 世界最初の社会保険制度を確立したドイツの政治家は誰か。
- ③ イギリスの総合的な社会保障制度実現の基礎となった報告書とは何か。
- ④ 日本で国民皆保険・皆年金が実現したのは何年か。
- ⑤ 1985年、国民年金に国民共通の制度として導入された制度は何か。
- ⑥ 日本の社会保障制度の四本柱をすべて答えよ。
- ⑦ 高齢化率が14%を超えた社会を何というか。
- ⑧ リスクを社会全体でわかちあうルールや制度を何というか。
- ⑨ 年金給付を現役の労働者が払う保険料でまかなう方式を何というか。
- ⑩ 高齢者や障がい者が普通の人と同じように社会のなかで活動するという考え方を何というか。
- ⑪ 国民所得に対する租税負担と社会保障負担の割合の合計を何というか。

- ① \_\_\_\_\_
- ② \_\_\_\_\_
- ③ \_\_\_\_\_
- ④ \_\_\_\_\_
- ⑤ \_\_\_\_\_
- ⑥ \_\_\_\_\_
- ⑦ \_\_\_\_\_
- ⑧ \_\_\_\_\_
- ⑨ \_\_\_\_\_
- ⑩ \_\_\_\_\_
- ⑪ \_\_\_\_\_
- ⑫ \_\_\_\_\_
- ⑬ \_\_\_\_\_
- ⑭ \_\_\_\_\_
- ⑮ \_\_\_\_\_
- ⑯ \_\_\_\_\_
- ⑰ \_\_\_\_\_
- ⑱ \_\_\_\_\_
- ⑲ \_\_\_\_\_
- ⑳ \_\_\_\_\_
- ㉑ \_\_\_\_\_
- ㉒ \_\_\_\_\_
- ㉓ \_\_\_\_\_
- ㉔ \_\_\_\_\_
- ㉕ \_\_\_\_\_
- ㉖ \_\_\_\_\_
- ㉗ \_\_\_\_\_
- ㉘ \_\_\_\_\_
- ㉙ \_\_\_\_\_
- ㉚ \_\_\_\_\_
- ㉛ \_\_\_\_\_
- ㉜ \_\_\_\_\_
- ㉝ \_\_\_\_\_
- ㉞ \_\_\_\_\_
- ㉟ \_\_\_\_\_
- ㊱ \_\_\_\_\_
- ㊲ \_\_\_\_\_
- ㊳ \_\_\_\_\_
- ㊴ \_\_\_\_\_
- ㊵ \_\_\_\_\_
- ㊶ \_\_\_\_\_
- ㊷ \_\_\_\_\_
- ㊸ \_\_\_\_\_
- ㊹ \_\_\_\_\_
- ㊺ \_\_\_\_\_
- ㊻ \_\_\_\_\_
- ㊼ \_\_\_\_\_
- ㊽ \_\_\_\_\_
- ㊾ \_\_\_\_\_
- ㊿ \_\_\_\_\_

### 61. 【消費者問題】 次の文章を読み、下の問いに答えよ。

<sup>(a)</sup>消費者をめぐるさまざまな問題が起きている。欠陥商品による事故、高齢者などを対象とした悪質商法、電子商取引にかかわる契約・偽造・不正引き出しなどの被害も報告されている。消費者主権が確立していることが望ましいが、現実の消費者は、<sup>(b)</sup>企業の宣伝や広告に影響されやすく、<sup>(c)</sup>周囲の消費パターンにも影響されやすい。消費者問題に対して、1962年にアメリカのケネディ大統領は<sup>(d)</sup>四つの権利を示した。この考え方は1968年に日本で制定された( ① )にも影響を与えている。この法律はその後改正され、<sup>(e)</sup>消費者基本法として成立した。個別の案件に対しては、欠陥商品に関して1994年に製造物責任法(PL法)が、契約に関しては2000年に消費者契約法が、訪問販売にかかわる事案については、2001年に特定商取引法が制定された。また、行政面では1970年、特殊法人として( ② )が設立され、地方公共団体の行政機関である( ③ )と協力して消費者保護行政を展開してきた。2009年には、行政の一元化をめざして( ④ )が設置された。しかし、消費者自身が「自立した消費者」をめざすことも大切である。

問1 空欄( ① )～( ④ )に適する語句を答えよ。

問2 下線部(a)に関連して、次の消費者問題について、発生した時代順に並べよ。

- ア. 振り込め詐欺が社会問題化      イ. サリドマイド事件  
ウ. 森永ヒ素ミルク事件              エ. 石油業界やみカルテル事件

問3 下線部(a)に関連して、主な問題商法について以下の問いに答えよ。

- i 他人を販売組織に加入させると利益が得られると勧誘し、商品・サービス、出資などの金銭的負担をさせる商法を何というか。  
ii 繁華街などで、アンケート調査などと称して近づき、喫茶店などに連れ込み、商品やサービスの売買契約を結ばせる商法を何というか。  
iii 勧誘目的を隠して喫茶店などによび出し、商品やサービスを売りつける商法を何というか。

問4 下線部(b)について、このことを何効果というか。

問5 下線部(c)について、このことを何効果というか。

問6 下線部(d)に含まれないものを、次から一つ選べ。

- ア. 選択できる権利      イ. 意見が聞かれる権利      ウ. 被害にあわないように保護される権利  
エ. 安全である権利      オ. 知らされる権利

問7 下線部(e)に関する説明として適切なものを、次から一つ選べ。

- ア. 消費者を権利の主体から保護する対象へ変更したのが消費者基本法である。  
イ. 欠陥商品に対して、企業の過失責任の範囲を明確に規定したのが製造物責任法(PL法)である。  
ウ. 不当な契約内容に対して、その契約を無効とできることを規定したのが消費者契約法である。  
エ. 特定商取引法は、無期限に自由に契約を解除できるクーリング・オフ制度を規定している。

問1	①		②	
	③		④	
問2	→	→	→	問3 i ii
	iii		問4	
問5			問6	問7

## 62.【労働問題】 次の文章を読み、下の問いに答えよ。

資本主義社会では、原則として資本家と労働者は対等な関係で労働契約を結ぶ(①)がある。しかし、その成立当初から、イギリスでは、さまざまな労働問題が発生した。アメリカでは、ニューディール政策の下、団結権・団体交渉権を保護する(②)が制定され、戦後には、労働運動の規制を意図した(③)が1947年に成立した。国際社会では、国際連盟の専門機関として(④)が1919年に設立された。

日本では、戦前に多くの労働組合が設立されたが、1940年にすべて解散に追い込まれた。戦後、憲法によって労働運動は公認され、現在では(⑤)が最も多くの労働者の支持を獲得している。また、日本国憲法によって労働三権、勤労権を含む労働基本権が保障され、労働三法が制定された。

労働組合法は、争議行為を含めた労働組合の正当な行為について、刑事・民事上の(⑥)を認めている。また、団体交渉によって、賃金や労働時間などについての(⑦)を取り決めること、不当労働行為として(⑧)に救済を申し出ることなどが規定されている。

労働関係調整法は、労働争議が発生した場合、(⑧)が斡旋・調停・(⑨)の三つの手段で解決にあたることを定め、緊急調整の制度や公務員の労働三権についての規制も設けている。

労働基準法は、労働条件の(⑩)基準を定めたもので、労使対等・均等待遇・男女同一賃金などの原則を規定している。また、これらの基準が守られているかどうかを監督するため、主な市町村には(⑪)、都道府県には労働局、厚生労働省には労働基準局が置かれている。

問1 空欄(①)～(⑪)に適する語句を答えよ。

問2 下線部(a)に関する説明として適切なものを、次から一つ選べ。

- ア. 産業革命前から、すでにさまざまな労働問題が各地で起こっていた。
- イ. 19世紀初めのラッダイト運動を経て、労働者は熟練工中心の職業別組合を結成した。
- ウ. 労働者の団結権を要求する運動として発展したのがチャーチスト運動である。
- エ. 1833年に成立した改正工場法においても児童労働は社会的な背景から放置された。

問3 下線部(b)に関連して、次の労働組合を設立の早いものから順に並べよ。

- ア. 友愛会
- イ. 労働組合期成会
- ウ. 日本労働総同盟

問4 下線部(c)に関する内容として適当でないものを、次から一つ選べ。

- ア. 経済情勢の悪化を理由として、賃下げを組合に伝えること。
- イ. 正当な理由なくして団体交渉を拒否すること。
- ウ. 労働組合への不加入などを条件として労働者を雇い入れること。
- エ. 使用者が労働組合への加入を理由に解雇すること。

問5 下線部(d)に関する説明として正しいものを、次からすべて選べ。

- ア. 労働争議全般が対象となる。
- イ. 国民の日常生活を著しく害する恐れのある公益事業が対象になる。
- ウ. 労働委員会が決定をする。
- エ. 内閣総理大臣が決定をする。

問6 下線部(e)に関連して、現在の公務員に対する労働三権の保障状況に関する説明として適当なものを、次から一つ選べ。

- ア. 地方公営企業の公務員には労働三権が認められている。
- イ. 警察などの公務員にも争議権だけは認められている。
- ウ. 一般職公務員には団結権が認められている。
- エ. 国営企業の公務員には労働三権が認められている。

問1	①	②	③	④
	⑤	⑥	⑦	⑧
	⑨	⑩	⑪	問2
問3	→	→	問4	問5
				問6

**63. 【日本の労使関係と労働環境の変化と課題】 次の文章を読み、下の問いに答えよ。**

戦後日本の労使関係の特色は、<sup>(a)</sup>企業別労働組合、終身雇用制、年功序列型賃金にあるとされてきた。しかし、バブル崩壊後、一部の日本的な雇用慣行は崩れはじめ、<sup>(b)</sup>非正規雇用労働者が増加してきた。

<sup>(c)</sup>女性の職場進出は1960年代から増加傾向にあり、1997年には、就業者総数の4割を占めた。男女雇用機会均等法の制定は、男女の役割分担意識に変化を与えた。一方、<sup>(d)</sup>労働者個人と企業との単純な紛争は増加傾向にあり、労働時間などの問題も残されている。また、<sup>(e)</sup>完全失業率を低下させることも今後の課題である。

問1 下線部(a)に関する説明として適当なものを、次から一つ選べ。

- ア. 欧米の労働組合も日本と同様の企業別組合が多い。
- イ. 欧米では、中途採用が一般的であり、不況期にはレイオフ(一時解雇)がしばしば実行される。
- ウ. 終身雇用制度は、戦後高度成長期に確立した雇用慣行である。
- エ. 年俸制などを含む成果主義の考え方は日本ではまったく受け入れられていない。

問2 下線部(a)の変化に関連して、以下の文に適する語句を、次から一つ選べ。

- i 雇用形態にかかわらない公平な待遇
- ii 職務の重要性・困難性・責任性などによって決まる賃金
- iii 勤労者の仕事と生活の調和

ア. 職務給 イ. 同一労働同一賃金 ウ. ワーク・ライフ・バランス エ. ワークシェアリング

問3 下線部(b)に関する説明として誤っているものを、次から一つ選べ。

- ア. 期間雇用、契約社員、派遣社員、パートなどの臨時的な雇用形態を非正規雇用というが、アルバイトはここには含まれない。
- イ. 正規雇用より非正規雇用の方が一般的には賃金は安い。
- ウ. 非正規雇用は正規雇用に比べて労働条件も悪く、失業のリスクも高い。
- エ. 非正規雇用増加の要因の一つには、OA化、FA化などの進展がある。

問4 下線部(c)に関連する法律の内容について適当なものを、次から一つ選べ。

- ア. 男女雇用機会均等法では今でも事業主にセクシャル・ハラスメント防止義務は課されていない。
- イ. 日本の年齢階級別労働力人口比率では、女性はいわゆる「M字型」の傾向がある。
- ウ. 労働基準法では、女性の深夜業や残業については制限を設けている。
- エ. 育児に関しては休業法が制定されたが、介護に関してはまだ制定されていない。

問5 下線部(d)に関連して、こうした紛争解決のために制定された法律名を答えよ。

問6 下線部(e)に関連する説明として適当なものを、次から一つ選べ。

- ア. 日本の完全失業率は、バブル崩壊後も5%を超えたことがない。
- イ. 日本の有効求人倍率は、バブル崩壊後も1.0倍を下回ったことはない。
- ウ. 非正規雇用労働者は、正規雇用者と比べても賃金は安い、失業リスクは変わらない。
- エ. 産業構造が大きく変化することによって発生する失業を構造的失業という。

問1	問2	i	ii	iii	問3	問4	問5	問6
----	----	---	----	-----	----	----	----	----

**64. 【社会保障制度のあゆみ】 次の文章を読み、下の問いに答えよ。**

社会保障制度は、<sup>(a)</sup>イギリス・北欧型、ヨーロッパ大陸型、アメリカ型の3種類に分類できる。その制度には各国の歴史的な事情が反映されている。<sup>(b)</sup>日本は「中福祉・低負担」で、給付水準ではヨーロッパ大陸型に、国民の負担面ではアメリカ型に近い。

問1 次の制度・法律・報告について、イギリスに関係するものには1、ドイツに関係するものには2、アメリカに関係するものには3を答えよ。

- ア. ベバリッジ報告 イ. エリザベス救貧法 ウ. 世界最初の社会保険制度
- エ. 世界最初の失業保険制度 オ. 世界最初の社会保障法

問2 下線部(a)に関する説明として誤っているものを、次から一つ選べ。

- ア. イギリス・北欧型は、平等な最低生活保障を目標とし、財源は公的負担が主である。

- イ. ヨーロッパ大陸型は、伝統的に財源は事業主の保険料負担が主である。
- ウ. アメリカ型は、自助努力が主であり、民間の私的保険が大きな役割を果たしている。
- エ. アメリカでは、伝統的に医療保険が存在しない点がユニークである。

問3 下線部(b)に関連して、日本の制度に関する説明として適切なものを、次から一つ選べ。

- ア. 日本の場合、本格的な救護法が成立するのは、戦後になってからである。
- イ. 憲法第25条の生存権思想を基礎に生活保護法は制定された。
- ウ. 日本で「国民皆保険・皆年金」が成立したのは、1950年代のはじめである。
- エ. 21世紀に入り、基礎年金制度が取り入れられた。

問1	ア	イ	ウ	エ	オ	問2	問3
----	---	---	---	---	---	----	----

**65. 【日本の社会保障制度と課題】 次の文章を読み、下の問いに答えよ。**

日本の社会保障制度は、<sup>(a)</sup>社会保険、【            】、社会福祉、公衆衛生の四つの柱から成り立っている。しかし、<sup>(b)</sup>少子高齢化の時代を迎え、<sup>(c)</sup>持続的な社会保障制度維持のための財源問題、充実したセーフティネット(安全網)の構築、<sup>(d)</sup>福祉理念の普及、<sup>(e)</sup>社会的経済的弱者への対応など課題が山積している。

問1 【            】に適する語句を答えよ。

問2 下線部(a)についての説明として適当なものを、次から一つ選べ。

- ア. 現在、医療保険、年金保険、労働者災害補償保険、介護保険の四つから成り立っている。
- イ. すべての保険は、被保険者と事業主の保険料負担と公費負担で運営されている。
- ウ. 年金は原則として65歳から受給できる。
- エ. 介護保険は、全国一律に実施する必要から厚生労働省が運営している。

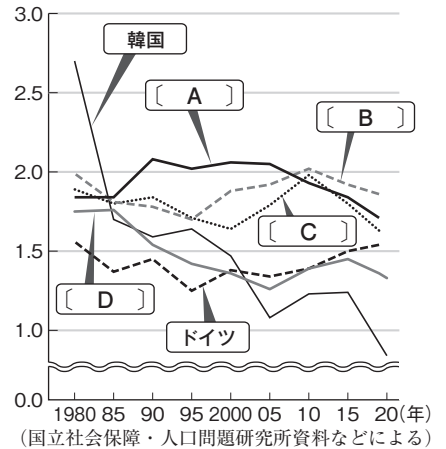
問3 下線部(b)に関して、以下の問いに答えよ。

- i 高齢社会とは、高齢化率が何%以上の社会をいうか。
- ii 一人の女性が一生の間に出産する子どもの平均の数は何か。
- iii 右図は主な国のiiの推移を示したものである。空欄〔 A 〕~〔 D 〕に適する国名を、次から一つずつ選べ。

ア. 日本   イ. フランス   ウ. アメリカ   エ. イギリス

問4 下線部(c)に関する説明として適当なものを、次から一つ選べ。

- ア. 年金給付額を現役の労働者の払う保険料でまかなう方式を積立方式という。
- イ. 日本がかつて採用していた方式が賦課方式である。
- ウ. 国民所得に対する租税負担と社会保障負担の割合の合計を国民負担率という。
- エ. 国民負担率に国債発行残高の対国民所得比率を加えたものが潜在国民負担率である。



問5 下線部(d)に関して、以下の文に適する語句を、次から一つずつ選べ。

- i 人々が活動しやすいように障壁のない社会を築く。
- ii 高齢者や障がい者が普通の人と同じように社会のなかで活動するという考え方。
- iii さまざまな施設・設備を誰もが使いやすいように設計段階から配慮しようとする考え方。

ア. ユニバーサルデザイン   イ. 共生社会   ウ. ノーマライゼーション   エ. バリアフリー

問6 下線部(e)に関して、一定規模以上の事業主は一定割合以上の障がい者を雇用すべきことが定められている法律は何か。

問1	問2	問3	i	ii	iii	A	B
C	D	問4	問5	i	ii	iii	問6

## 1 消費者問題と消費者保護

(1) 日本における契約や取引に関する記述として最も適当なものを、次から一つ選べ。 [セツク-17 追試(現社)]

- ① 私法の三大原則とは、契約自由の原則・所有権絶対(所有権保護)の原則・無過失責任の原則である。
- ② 消費者は、クレジットカードの利用により、購入にあたってカード会社が立て替えた金額分の金銭に関する債権を有することになる。
- ③ 当事者の一方がある物を相手方に引き渡すとともに相手方がその代金を支払うことを双方で約束した時点で、その物に関する売買契約は成立する。
- ④ 未成年者が締結した契約であっても、法律上、いったん成立した契約は取り消すことができ

(2) 消費者問題にかかわる日本の法制度の説明として正しいものを、次から一つ選べ。 [セツク-20 本試(政経)]

- ① 特定商取引法の制定により、欠陥製品のために被害を受けた消費者が、損害賠償請求訴訟において製造業者の無過失責任を問えるようになった。
- ② 消費者団体訴訟制度の導入により、国が認めた消費者団体が、被害を受けた消費者に代わって訴訟を起こせるようになった。
- ③ 消費者庁の廃止により、消費者行政は製品や事業ごとに各省庁が所管することになった。
- ④ リコール制度の改正により、製品の欠陥の有無を問わずその製品と消費者の好みに応じた製品との交換が可能になった。

(3) 生徒 Y は、消費者問題と政府の役割について、次の通りまとめてみた。次の文章中の空欄  には a か b、空欄  には c か d が当てはまる。空欄  ・  に当てはまる正しい記述を選び、その組合せとして最も適当なものを、下から一つ選べ。 [共通 21 第2(政経)]

市場経済では、経済主体の意思が尊重され、それぞれの主体の意思に基づいて自由に取引が行われると想定されている。しかし、 などもあり、消費者主権が常にたしかなものであるとは限らない。

こうした事態に対応するため、政府は法律を整備し、情報提供を行ったり、企業活動に介入したりすることもある。たとえば日本では、。

- a 消費者の消費への欲望が、生産者側の広告や宣伝に依存してかき立てられるという依存効果
  - b 消費者の四つの権利が、消費者団体の活動によって保障されていること
  - c 多くの地方公共団体が、苦情処理などを行うために消費生活センター(消費者センター)を設置している
  - d 消費者基本法が、消費者の権利尊重と自立支援を目的とした消費者保護基本法へと改正された
- ① アーa イーc    ② アーa イーd
  - ③ アーb イーc    ④ アーb イーd

(4) 次の経済用語 A～C と、その内容ア～ウとの組合せとして正しいものを、下から一つ選べ。 [セツク-18 追試(政経)]

- A 依存効果    B デモンストレーション効果    C 消費者主権
- ア 消費者の欲望は自律的ではなく、企業の宣伝や広告に喚起されるようになること
- イ 消費者の購買行動が生産されるものの種類や数量を決定するという考え方のこと
- ウ 個人の消費行動が他人の消費水準や消費パターンの影響を受けること
- ① Aーア Bーイ Cーウ    ② Aーア Bーウ Cーイ
  - ③ Aーイ Bーア Cーウ    ④ Aーイ Bーウ Cーア
  - ⑤ Aーウ Bーア Cーイ    ⑥ Aーウ Bーイ Cーア

## 2 労使関係と労働市場

(1) 民間の労働者に関する日本の法制度の説明として誤っているものを、次から一つ選べ。〔セクター 20 本試(政経)〕

- ① 労働組合への加入を理由とする解雇は、不当労働行為として禁止される。
- ② 裁量労働制では、実際に働いた時間にかかわらず、あらかじめ定められた時間だけ働いたとみなされる。
- ③ 事業主は、職場におけるセクシュアル・ハラスメントを防止するために、必要な措置を講じることが義務づけられている。
- ④ 法律に基づく最低賃金は、地域や産業を問わず同じ額とされている。

(2) 現在の日本における労働者に関する法制度についての記述として誤っているものを、次から一つ選べ。

〔共通 21 特例追試(政経)〕

- ① 育児・介護休業法は、男女いずれにも育児休業、介護休業を認めている。
- ② 労働基準法は、賃金について、女性であることを理由に差別的取扱いをすることを禁止している。
- ③ 労働基準法は、女性の保護のため、女性の深夜労働を一律に禁止している。
- ④ 男女雇用機会均等法は、男女の均等な機会および待遇の確保の支障となっている事情を改善するための措置を、女性に関して行うことを認めている。

(3) 日本では雇用形態の多様化が進んでいる。さまざまな働き方に対応した規制を行う日本の法律 A～C と、それらの内容に関する記述ア～ウの組合せとして正しいものを、下から一つ選べ。〔セクター 18 本試(政経)〕

A 労働者派遣法 B パートタイム労働法 C 高年齢者雇用安定法

ア 正社員よりも週の所定労働時間が短い労働者の労働条件の改善などを目的とする。

イ 制定当時は対象業務が限定されていたが、その後の改正により対象業務の範囲が拡大されてきている。

ウ 定年の引上げ、定年制の廃止、定年後の継続雇用制度の導入の中からいずれかの措置をとることを事業主に義務づけている。

- ① A—ア B—イ C—ウ
- ② A—ア B—ウ C—イ
- ③ A—イ B—ア C—ウ
- ④ A—イ B—ウ C—ア
- ⑤ A—ウ B—ア C—イ
- ⑥ A—ウ B—イ C—ア

(4) 生徒たちは、日本の雇用環境とその変化について調べることにした。次の文章中の空欄 **ア**・**イ** に当てはまる語句の組合せとして正しいものを、下から一つ選べ。〔共通 21 第1(政経)〕

終身雇用、**ア**、および企業別労働組合は、日本における労使慣行の特徴とされ、日本的経営とも呼ばれてきた。しかし、経済環境の変化に伴って終身雇用や**ア**に代わって異なる雇用や賃金の形態が広がり、多様化している。

また、現在では労働者の働き方も多様化している。たとえば、業務遂行の方法や時間配分の決定などを労働者自身に委ねる必要があるため、実際の労働時間に関係なく一定時間働いたとみなす**イ**を導入する企業もある。

- ① A—年功序列型の賃金 イ—フレックスタイム制
- ② A—年功序列型の賃金 イ—裁量労働制
- ③ A—成果主義による賃金 イ—フレックスタイム制
- ④ A—成果主義による賃金 イ—裁量労働制

(5) 日本の労働者の権利に関する記述として最も適当なものを、次から一つ選べ。〔セクター 18 追試(政経)〕

- ① 労働組合は、正当な争議行為であっても、使用者に損害を与えた場合には民事上の責任を負う。
- ② 最高裁は、公務員の争議行為の全面的な禁止を違憲と判断している。
- ③ 警察官や自衛隊員に、団結権が認められている。
- ④ 国民の日常生活を著しく害するおそれのある争議行為は、緊急調整により、制限されることがある。



- (6) 次の表は、男性の賃金を100とした場合の女性の賃金、管理職に占める女性の割合、関係に占める女性の割合、最高裁判所裁判官に占める女性の割合の国際比較を示したものである。この表から読みとれる内容として正しいものを、下から一つ選べ。 【セブ-18本試(政経)】

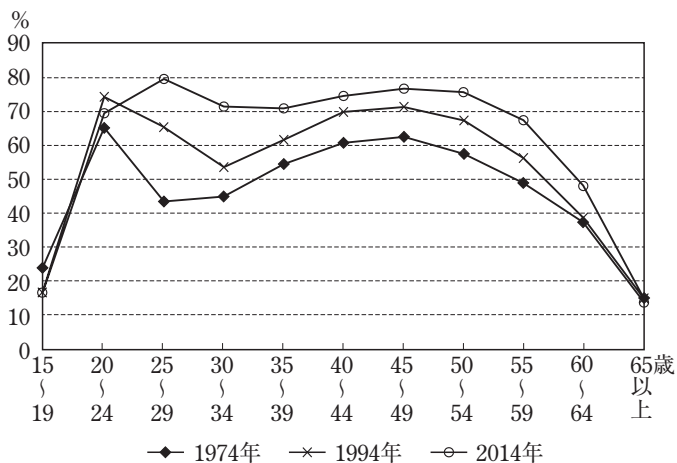
	男性の賃金を100とした場合の女性の賃金	管理職に占める女性の割合(%)	関係に占める女性の割合(%)	最高裁判所裁判官に占める女性の割合(%)
日本	72	11	22	17
アメリカ	83	44	26	25
ドイツ	81	29	33	21
フランス	85	33	50	35

(注) 男性の賃金を100とした場合の女性の賃金と管理職に占める女性の割合とは2014年の数値である。関係に占める女性の割合は2015年の数値である。最高裁判所裁判官に占める女性の割合は、日本とアメリカが2013年の数値であり、ドイツとフランスが2012年の数値である。

(資料) 独立行政法人 労働政策研究・研修機構(編)『データブック国際労働比較(2016年版)』および OECD, *Government at a Glance 2013, 2015*(OECD Web ページ)により作成。

- ① 任期4年で3選禁止の国家元首がおり、二大政党制が定着しているこの国は、関係に占める女性の割合が最も高い。
- ② 半大統領制をとり、国連安全保障理事会の常任理事国であるこの国は、管理職に占める女性の割合が最も低い。
- ③ 議院内閣制をとるが、実質的な権限をもたない大統領もいるこの国は、最高裁判所裁判官に占める女性の割合が2番目に低い。
- ④ 連邦国家ではなく、議院内閣制の下で一党優位の時期が長く続いたこの国は、男性の賃金を100とした場合の女性の賃金が2番目に高い。

- (7) 次の図は日本の女性の年齢階級別労働力率(人口に占める労働力人口の割合)の推移を示したものである。日本ではこのグラフが、二つのピーク(頂点)とそれらの間に一つのボトム(底)をもつ形(M字型カーブ)になることが知られている。この図から読みとれる内容として正しいものを、下から一つ選べ。 【セブ-18追試(政経)】



(資料) 総務省統計局「労働力調査 長期時系列データ(基本統計)」(総務省統計局 Web ページ)により作成。

- ① 15~19歳の労働力率は、1974年には10パーセント台であったが、2014年には20パーセント台になっている。
- ② 60~64歳の労働力率は、1974年には40パーセント台であったが、2014年には30パーセント台になっている。
- ③ M字型カーブの最初のピークは、1994年の20~24歳から2014年に25~29歳となり、そのピークに当たる年齢階級の労働力率は2014年の方が低くなっている。
- ④ M字型カーブのボトムは、1974年の25~29歳から1994年に30~34歳となり、そのボトムに当たる年齢階級の労働力率は1994年の方が高くなっている。

### 3 少子高齢社会と社会保障

(1) 日本の社会保険制度の説明として正しいものを、次から一つ選べ。

〔共通 21 特例追試(政経)〕

- ① 医療保険は、全国民が加入する国民健康保険に統一された。
- ② 労災保険は、被保険者と事業主が保険料を拠出する。
- ③ 国民年金は、基礎年金制度の設立まで全額公費で賄われていた。
- ④ 介護保険は、公費と被保険者の保険料で賄われている。

(2)生活困窮者を救済する日本の生活保護制度についての記述として最も適当なものを、次から一つ選べ。

〔センター 20 追試(政経)〕

- ① 生活保護の制度は、国民年金法に基づいている。
- ② 生活保護の財源は、全額公費である。
- ③ 生活保護の給付は、世帯単位ではなく個人単位で適用される。
- ④ 生活保護の扶助は、出産の扶助を含まない。

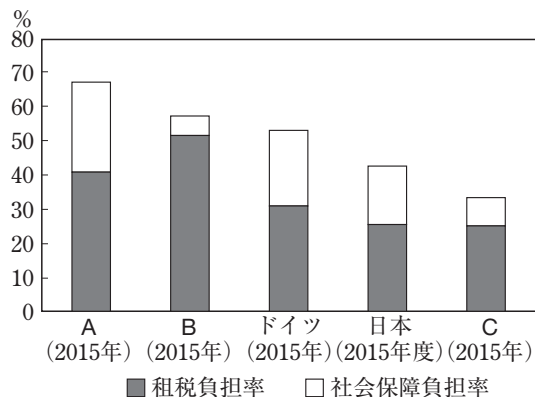
(3)世界各国の社会保障制度の歴史に関する記述として誤っているものを、次から一つ選べ。

〔センター 20 追試(政経)〕

- ① アメリカでは、ニューディール政策の一環として社会保障法が制定された。
- ② イギリスでは、ベバリッジ報告をうけて社会保障制度が体系的に整備された。
- ③ ドイツでは、社会主義者鎮圧法が制定された後、社会保険制度が創設された。
- ④ 日本では、労働者災害補償保険法によって、初めて社会保険制度が設けられた。

(4)次の図は、北欧型の社会保障制度に分類されるスウェーデン、大陸型の社会保障制度に分類されるドイツとフランス、そのほかに日本とアメリカという、5か国の租税負担率と社会保障負担率を比較したものである。図中のA～Cに当てはまる国名の組合せとして正しいものを、下から一つ選べ。

〔センター 20 本試(政経)〕



(注) 租税負担率とは、租税負担額の対国民所得比であり、社会保障負担率とは、社会保障負担額の対国民所得比である。  
 (資料) 財務省「国民負担率の国際比較(OECD加盟35カ国)」(財務省 Web ページ)により作成。

- ① A—アメリカ      B—スウェーデン      C—フランス
- ② A—アメリカ      B—フランス      C—スウェーデン
- ③ A—スウェーデン      B—アメリカ      C—フランス
- ④ A—スウェーデン      B—フランス      C—アメリカ
- ⑤ A—フランス      B—アメリカ      C—スウェーデン
- ⑥ A—フランス      B—スウェーデン      C—アメリカ

(5)2000年以降の日本の少子高齢化の動向や国の対応策についての記述として最も適当なものを、次から一つ選べ。

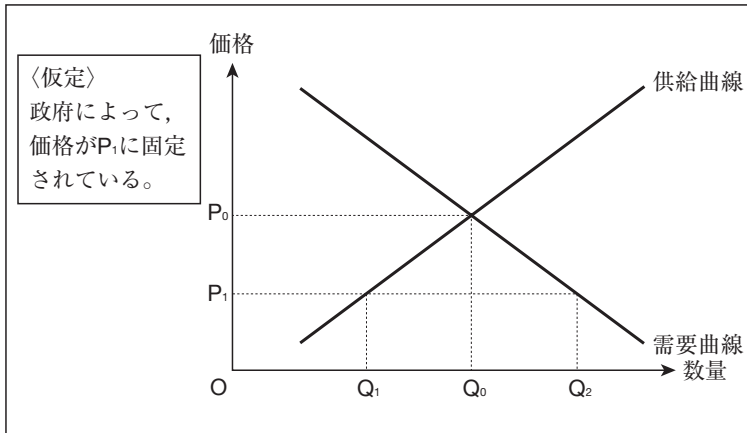
〔センター 18 追試(政経)〕

- ① 待機児童の問題を解決するため、認可保育所の定員拡大を図った。
- ② 高齢社会から高齢化社会へ移行した。
- ③ 合計特殊出生率は、低下し続けている。
- ④ 現役世代の保険料負担が過重にならないように、公的年金の保険料を段階的に引き下げる仕組みが導入された。

66. 【市場・国内総生産】 生徒Xは、生徒Yと一緒に「政治・経済」の授業を振り返りながら、学習したことをノートに整理した。これに関して、以下の問いに答えよ。 【共通】 23本試(政経)

問1 生徒Yは、政府による価格への介入の影響を考えるために次の図を作成した。右のメモは、図をもとにYがまとめたものであり、空欄「ア」には図中の記号  $Q_0 \sim Q_2$  のいずれかが当てはまる。メモ中の空欄「ア」・「イ」に当てはまる記号と語句との組合せとして最も適当なものを、後から一つ選べ。

図



メモ

政府による価格への介入によって、価格が  $P_1$  に固定されると、取引される財の数量は「ア」となる。このとき、この財の市場では「イ」が発生していることになる。

- ① ア- $Q_0$  イ-超過需要    ② ア- $Q_0$  イ-超過供給    ③ ア- $Q_1$  イ-超過需要  
 ④ ア- $Q_1$  イ-超過供給    ⑤ ア- $Q_2$  イ-超過需要    ⑥ ア- $Q_2$  イ-超過供給

問2 生徒Yは、国内総生産とその構成について学んだ。そこでYは、日本における2014年度から2015年度にかけての民間最終消費支出と民間企業設備投資の増加について調べ、次のメモを作成した。メモに関する記述として最も適当なものを、後から一つ選べ。

- 国内総生産は生産面、分配面、支出面の三つの側面からみることができる。
- 国内総生産は民間最終消費支出、政府最終消費支出、総固定資本形成、純輸出からなる。
- 総固定資本形成は、民間企業設備投資や民間住宅投資などを含む。
- 民間最終消費支出は2兆3,211億円増加した。
- 民間企業設備投資は3兆1,698億円増加した。

- ① 国内総生産に占める支出割合は、民間最終消費支出より民間企業設備投資の方が小さいため、2015年度のこれら二つの支出項目の対前年度増加率を比較すると、民間企業設備投資の方が高い。  
 ② 国内総生産に占める支出割合は、民間最終消費支出より民間企業設備投資の方が大きいため、2015年度のこれら二つの支出項目の対前年度増加率を比較すると、民間企業設備投資の方が高い。  
 ③ 国内総生産に占める支出割合は、民間最終消費支出より民間企業設備投資の方が小さいため、2015年度のこれら二つの支出項目の対前年度増加率を比較すると、民間最終消費支出の方が高い。  
 ④ 国内総生産に占める支出割合は、民間最終消費支出より民間企業設備投資の方が大きいため、2015年度のこれら二つの支出項目の対前年度増加率を比較すると、民間最終消費支出の方が高い。

**67. 【経済主体の関係】** 生徒たちは、次の白板にまとめた授業の内容をもとに、経済主体の関係について考察や分析を行った。これに関連して、以下の問いに答えよ。 〔共通 22本試(政経)〕

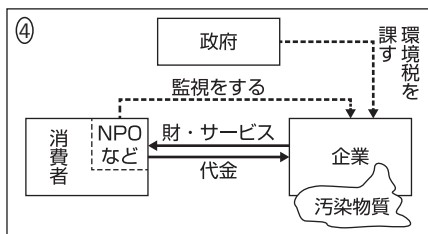
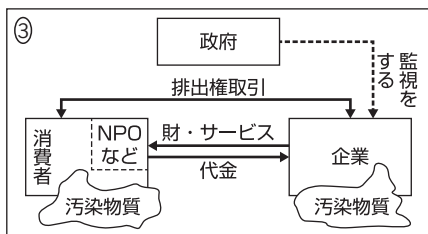
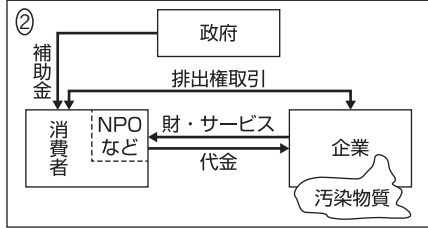
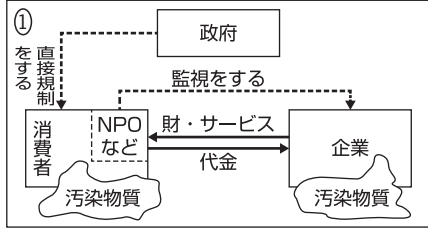
1. 【経済主体の関係】 家計(消費者)、企業、政府の(a)関係図の例  
 例：政府と企業の関係図  
  
 実線の矢印：モノ・カネなどの流れ  
 点線の矢印：(b)土地開発への規則などの「行為(～する)」  
 注意：基本的な関係図は、これらに家計を加えた三つの主体から構成される

2. 【関係図の書き方】 〈許認可の例：建設業〉〈建設業の事業例：災害復旧〉  
  
 政府 ← 税の納付  
 政府 ← 許認可・指導をする  
 企業 → 融資  
 日本銀行 ← 金融政策  
 市中銀行  
 経営能力  
 業種ごとの技術力  
 財政的基礎

3. 【関係図の応用】 物価や貿易の面に広げて2か国以上で分析するなど

問1 下線部(a)に関連して、生徒Xと生徒Yは、白板における関係図の書き方を参考に話し合いを行い、自主学習として環境問題を関連させた経済主体の関係図を作成した。たとえば、次の会話文中の下線部の内容は、後の関係図中の消費者と企業との矢印(↔)に対応している。会話の内容と整合する関係図として最も適当なものを、後から一つ選べ。

- X：企業の工場から汚染物質が排出されるような図を考えればいいかな。  
 Y：それもあるけど、需要側の消費者が供給側の企業と、市場で財・サービスを取引するから生産が行われるわけで、需要側にも問題があると思うよ。  
 X：そうだね。でも、両方を書くと問題の焦点がわかりにくくなるし、今回の学習では、需要側からの汚染物質の問題は省いて、供給側からの汚染物質の排出と供給側への政府の対策を作図するってことでいいんじゃないかな。政府が供給側を対象に対策をしたというニュースもあったよね。  
 Y：いいね。私もみたよ。あと、その矢印のそばに書く語句はニュースに近いものを書くといいかもね。政策の目的も考慮されやすい語句がいいかな。  
 X：うん。加えて、市民で構成されるNPOなどによる、供給側への監視も大事になってくるんじゃないかな。



問2 下線部(b)に関連して、生徒Xは、クラスでの発表において、企業の土地利用を事例にして、機会費用の考え方とその適用例をまとめることにした。Xが作成した、次のメモ中の空欄「ア」・「イ」に当てはまる語句として最も適当なものを、後から一つ選べ。

◇機会費用の考え方：ある選択肢を選んだとき、もし他の選択肢を選んでいたら得られたであろう利益のうち、最大のものの。  
 ◇事例の内容と条件：ある限られた土地を公園、駐車場、宅地のいずれかとして利用する。利用によって企業が得る利益は、駐車場が最も大きく、次いで公園、宅地の順である。なお、各利用形態の整備費用は考慮しない。  
 ◇機会費用の考え方の適用例：ある土地をすべて駐車場として利用した場合、「ア」の関係から他の用途に利用できないため、そのときの機会費用は、「イ」を選択したときの利益に等しい。

- ① アートレード・オフ    イー公園    ② アートレード・オフ    イー宅地  
 ③ アーポリシー・ミックス    イー公園    ④ アーポリシー・ミックス    イー宅地

問3 下線部(c)に関連して、生徒Xと生徒Yは、日本銀行による金融政策の主な手段である公開市場操作(オープン・マーケット・オペレーション)について話し合った。次の会話文中の空欄「ア」・「イ」に当てはまる語句の組合せとして最も適当なものを、後から一つ選べ。

X：日本銀行は、買いオペレーションや売りオペレーションによって、個人や一般企業が保有する通貨量を変動させているようだね。

Y：そうかな？ たしかに、買いオペは金融「ア」の効果が期待できると言われているけど、日本銀行が市中銀行から国債を買い入れると、確実に増加するのは市中銀行が保有する日銀当座預金の残高だね。

X：それは個人や一般企業が保有する通貨量、つまり「イ」が増加すると考えてよいのかな。

Y：「イ」が増加するかどうかは、個人や一般企業の資金需要と市中銀行の貸出が増加するかどうかによるよ。

X：それなら、日本銀行の公開市場操作は「イ」を直接的に増減させるものではないということだね。

- ① アー緩和    イーマネーストック    ② アー緩和    イーマネタリーベース  
 ③ アー引締    イーマネーストック    ④ アー引締    イーマネタリーベース

問4 下線部(d)に関連して、生徒たちは、次の図1と図2を用いて市中銀行の貸出業務を学習することになった。これらの図は、すべての市中銀行の資産、負債、純資産を一つにまとめた上で、貸出前と貸出後を比較したものである。これらの図から読みとれる内容を示した後のメモを踏まえて、市中銀行の貸出業務に関する記述として最も適当なものを、後から一つ選べ。

資産	負債・純資産
「すでにある貸出」 85	「すでにある預金」 90
----- 日銀当座預金15	----- 資本金10

図1 貸出前のバランスシート

資産	負債・純資産
「新規の貸出」20 「すでにある貸出」 85	「新規の預金」20 「すでにある預金」 90
----- 日銀当座預金15	----- 資本金10

図2 貸出後のバランスシート

(注) バランスシートの左側には「資産」が、右側には「負債・純資産」が表され、「資産」と「負債・純資産」の金額は一致する。簡略化のため、市中銀行の資産は貸出および日銀当座預金、負債は預金、純資産は資本金のみとし、また貨幣単位は省略する。

(メモ) 個人や一般企業が銀行から借り入れると、市中銀行は「新規の貸出」に対応した「新規の預金」を設定し、借り手の預金が増加する。他方で、借り手が銀行に返済すると、市中銀行の貸出と借り手の預金が同時に減少する。



- ① 市中銀行は「すでにある預金」を個人や一般企業に貸し出すため、銀行貸出は市中銀行の資産を増加させ負債を減少させる。
- ② 市中銀行は「すでにある預金」を個人や一般企業に貸し出すため、銀行貸出は市中銀行の資産を減少させ負債を増加させる。
- ③ 市中銀行は「新規の預金」を創り出すことによって個人や一般企業に貸し出すので、銀行貸出は市中銀行の資産と負債を減少させる。
- ④ 市中銀行は「新規の預金」を創り出すことによって個人や一般企業に貸し出すので、銀行貸出は市中銀行の資産と負債を増加させる。

### 68. 【資本主義経済の歴史的な転換点】 次の文章を読み、以下の問いに答えよ。

〔共通〕21第2(政経)〕

経済に興味をひかれた生徒Yは、自分を取り巻く具体的な経済の仕組みにも興味を覚え、毎朝、新聞に目を通すようになった。

問 生徒Yは新聞のコラム欄に、次のような記述をみつけた。

#### 今日のコラム「経世済民」

1929年にアメリカで発生した恐慌は、世界中に波及して世界恐慌になった。それは、経済過程への国家のかかわり方、通商および通貨に関する国際的な枠組み、金融制度のあり方などに変化をもたらした。そうした意味でこの恐慌は、現在へとつながる、資本主義経済の歴史的な転換点となった。

この記述に興味をひかれたYは、生徒Xを誘って図書館に行き、この記述の意味を分担して調べた。下の発言a～dは、調べた成果を互いに教え合った際のものである。空欄「ア」～「オ」に当てはまる語句の組合せとして最も適当なものを、後から一つ選べ。

a 市場への国家の介入が、世界恐慌を契機に強まっていったよ。景気の安定化や所得の再分配などに関しても、国家が次第にその役割を担うようになったんだ。「ア」政府から「イ」政府への転換が始まったんだよ。

b 国際的な通貨システムにも変化があったよ。それまで中央銀行の金保有量に通貨量が制約されていた各国は、世界恐慌を契機に、金保有量にかかわらず通貨量を増減できる制度を採用することになったんだ。これによって「ウ」紙幣は、現在の日本でもみられる「エ」紙幣に取って代わられたよ。

X

c 変化といえば、国際的な通商システムにもみられたよ。世界恐慌を契機に世界経済は、列強諸国によって複数の経済圏に分断されたんだ。こうした世界経済の分断が戦争の一因になったことへの反省から、第二次世界大戦後は「オ」貿易を促進する協定が結ばれたよ。

d 金融制度の変化もみられたよ。アメリカでは世界恐慌が発生した後、銀行業務と証券業務の兼営が禁止されたり、連邦レベルの預金保険制度が整備されたりしたんだ。金融市場の安定化が模索されたんだよ。

Y

- ① アー小さな イー大きな ウー不換 エー兌換<sup>だかん</sup> オー保護
- ② アー小さな イー大きな ウー不換 エー兌換 オー自由
- ③ アー小さな イー大きな ウー兌換 エー不換 オー保護
- ④ アー小さな イー大きな ウー兌換 エー不換 オー自由
- ⑤ アー大きな イー小さな ウー不換 エー兌換 オー保護
- ⑥ アー大きな イー小さな ウー不換 エー兌換 オー自由
- ⑦ アー大きな イー小さな ウー兌換 エー不換 オー保護
- ⑧ アー大きな イー小さな ウー兌換 エー不換 オー自由